

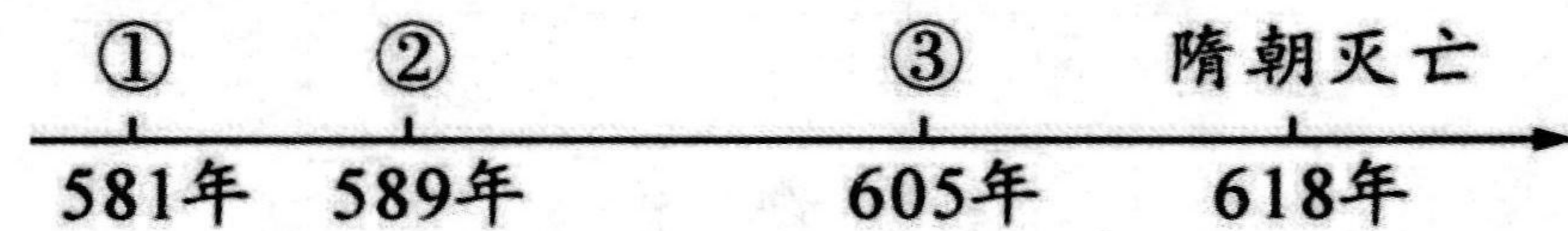
2023-2024 学年度第二学期期末教学质量抽测

七年级历史试卷

满分 100 分 考试时间 80 分钟

一、选择题：本大题共 30 小题，每小题 2 分，共 60 分。在每小题给出的四个选项中，只有一项是符合题目要求的。

1. 如下年代尺反映了隋朝重大历史事件，②处相关事件是（ ）



- A. 定都大兴 B. 开凿运河 C. 统一全国 D. 开创科举制

2. 下列示意图表现了某一朝代在中国历史上的贡献。其中①、②处应为（ ）


①	政治局面：重新实现统一
	制度创新：创立科举制
	民族关系：各民族经济文化发展、民族交融
	工程建设：②

- A. 秦朝、修建灵渠 B. 隋朝、开凿大运河
C. 元朝、建立驿站 D. 明朝、营造北京城

3. 唐太宗认为“为君之道，必须先存百姓”；武则天劝农桑，薄赋敛，省力役；唐玄宗统治早期选用贤才，兴利除弊，发展农业。材料主要说明（ ）

- A. 农业的持续发展 B. 统治者选贤任能 C. 统治者损害民力 D. 唐朝兴盛的原因

4. “大唐不夜城”推出下列展出图片的专题展览，你觉得最合适的专题名称是（ ）



松赞干布 文成公主 《步辇图》

- A. 经济繁荣 B. 对外开放 C. 民族交融 D. 风气开放

5. “危楼高百尺，手可摘星辰。不敢高声语，恐惊天上人。”出自李白的《夜宿山寺》，以下哪一个是李白诗歌的特点（ ）

- A. 直如白话 B. 诗歌深刻的反映了历史
C. 低沉悲壮 D. 诗歌想象丰富，意境奇妙

6. 第一手史料是接近或直接在历史事件发生时所产生的原始资料。据此，研究唐朝中外文化交流应首选（ ）

- A. 经典名著《西游记》 B. 历史纪录片《玄奘西行》
C. 电影《长安三万里》 D. 历史书籍《大唐西域记》

7. 某学者指出，藩镇割据破坏了唐王朝的政令统一，但同时藩镇间相互制约，又维系着唐王朝的统治。该学者强调藩镇（ ）

- A. 最终导致唐朝走向灭亡 B. 使唐朝的国力由盛转衰
C. 结束了唐朝的中央集权 D. 是唐朝延续的原因之一

8. 宋朝名将狄青担任枢密副使后，宰相庞籍就轻蔑地称他为“赤枢”，非但大臣轻蔑狄青，就连微末小官也看不起狄青。这一现象的出现，主要是因为宋朝（ ）

- A. 科举制度逐渐完善 B. 重文轻武风气盛行
C. 军队的战斗力低下 D. 枢密使权力被架空

9. 1069 年，宋神宗任用王安石主持变法，这是中国古代史上继王莽新政之后又一次规模巨大的政治变革运动。这次“运动”（ ）

- A. 源于宋积贫积弱的社会危机 B. 使宋朝的经济实力空前增强
C. 仅涉及经济军事这两个领域 D. 得到了司马光等宰相的支持

10. 澶渊之盟后，宋、辽分别在沿边地区陆续开放多处榷场（由政府主导控制的对外贸易市场）互市贸易，此后双方百年间不再有大规模战争。这说明榷场的设立（ ）

- A. 扩大了宋朝统治区域 B. 推动了朝贡贸易发展
C. 改变了政权并立局面 D. 加强了宋辽经济联系

11. 南宋初年，金军几次大举南下。南宋军民奋起抵抗。南宋抗金将领率军北伐，从金军手中收复许多失地。其中统率“岳家军”在郾城大败金军主力的抗金将领是（ ）



A. 黄巢



B. 范仲淹



C. 岳飞



D. 文天祥

12. 文物是历史的见证。某地博物馆收藏了如下历史文物，能够佐证（ ）



“济南刘家功夫针铺”铜版



北宋纸币铜版拓片 南宋纸币“会子”铜版拓片

- A. 宋朝打破经商时空限制 B. 宋代的商业贸易繁荣
C. 宋朝都市文化丰富多彩 D. 毕昇发明活字印刷术

13. 有学者说：“成吉思汗是后人难以比肩的战争奇才。他逢敌必战、战必胜的神奇，将人类的军事天赋穷尽到了极点”。下列属于“成吉思汗”主要贡献的是（ ）

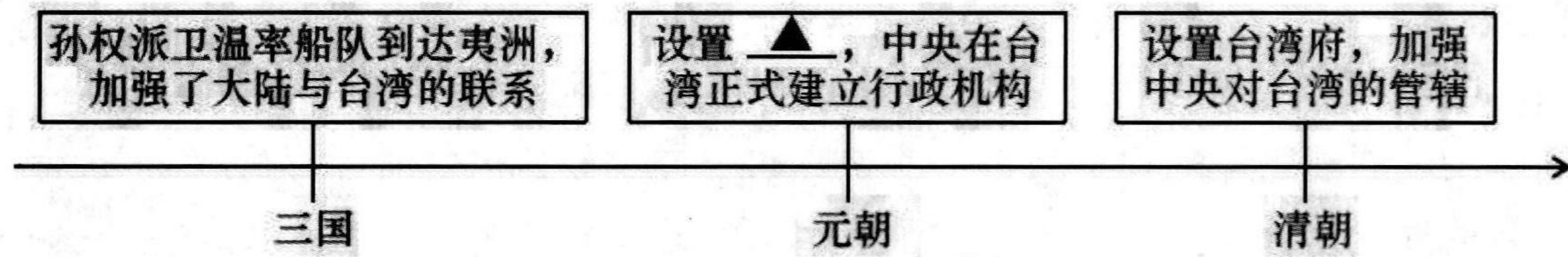
- A. 统一蒙古 B. 建立元朝 C. 灭亡金朝 D. 统一全国

14. 学习历史要区分历史叙述中的史实与史论。下列表述属于历史史论的是（ ）

- A. 武则天创立了殿试制度，亲自面试考生选拔人才

- B. 北宋改革发展科举制，大幅度增加科举取士名额
- C. 南宋时期，杭州城中店铺林立，出现早市、夜市
- D. 元朝为统一多民族国家的进一步发展奠定了基础

15. 下图中“▲”处应是（ ）



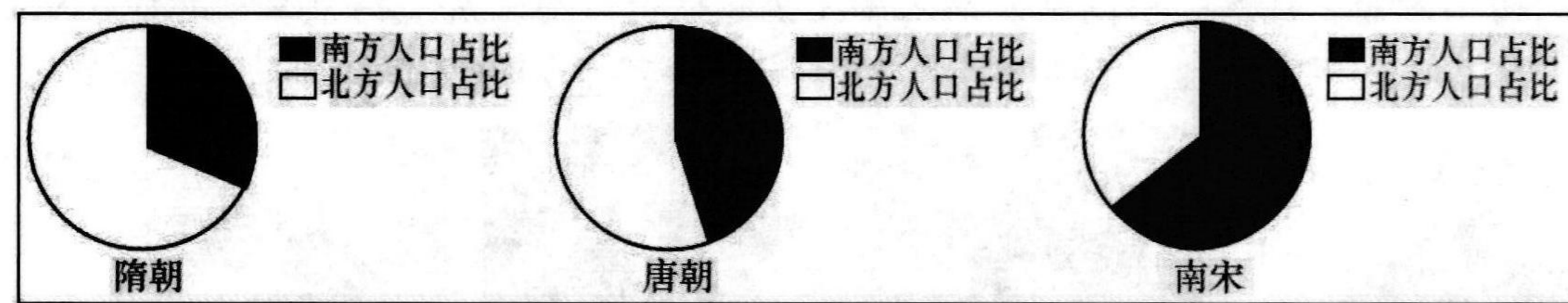
- A. 西域都护 B. 安西都护府 C. 澎湖巡检司 D. 台湾行省

16. 右图是藏于陕西历史博物馆的元代壁画《醉归乐舞图》，元代歌舞中融入了蒙古族的骑马舞蹈、西域舞曲节奏，及南方的水乡舞蹈、北方的民间舞蹈，形成了独特的元朝乐舞特色。这说明（ ）



- A. 儒家思想受到冲击 B. 元代歌舞水平达到了巅峰
- C. 元代重视文化建设 D. 民族交融丰富了文化

17. 人口的迁移见证了社会的变迁，下图为我国隋朝、唐朝、南宋南北方人口比例饼状图，这种变化反映了（ ）




- A. 南方战乱频繁 B. 北方相对安定 C. 经济重心南移 D. 城市生活繁荣

18. 如下图“鸡鸣驿”和“急递铺令牌”都具有鲜明的元代特色。元朝以大都为中心，修建了四通八达的驿站共 1400 余处，与驿站相辅而行的有急递铺，每 10 里、15 里或 20 里设一铺。这主要反映了元朝（ ）



鸡鸣驿



急递铺令牌

- A. 疆域辽阔 B. 贸易繁荣 C. 交通发达 D. 战争频繁

19. “举世皆知的印刷术、火药和磁石，人类的世界因为这三种发明而为之改观。首先在学术上，其次在战争中，最后是在航行方面，而因此又引出了不计其数的变化。”材料表明（ ）

- A. 科技发明彰显了中国人的聪明智慧 B. 科技的进步推动了中国社会的变革
- C. 中国古代科技对世界产生重大影响 D. 社会的发展进步有赖于科技的发展

20. 《中华人民共和国爱国主义教育法》自 2024 年 1 月 1 日起施行。爱国主义是中华文明源远流长的血脉基因，是中华优秀传统文化的精华。以下诗句能体现这种血脉精华的是（ ）

- A. 劝君更尽一杯酒，西出阳关无故人 B. 莫愁前路无知己，天下谁人不识君
- C. 洛阳亲友如相问，一片冰心在玉壶 D. 先天下之忧而忧，后天下之乐而乐

21. 中国自古以来形成了一整套国家制度和治理体系。下表反映了我国古代国家治理的趋势是（ ）

时期	措施
隋唐	创立科举制度、三省六部制
宋	分化事权，削弱相权
明	废丞相，权分六部，设锦衣卫

- A. 专制集权的不断强化 B. 选官制度的创立完善
- C. 地方监察制度的加强 D. 经济文化的繁荣发展

22. 明清科举考试从“四书”“五经”取题，内容必须用人的语气，不能自由发挥，句子的长短、字的繁简、声调的高低都相对成立，并限字数。这实际上（ ）

- A. 巩固了文学的地位 B. 保障了社会的稳定
- C. 禁锢了人民的思想 D. 促进了科举制发展

23. 郑和下西洋后，淳泥、满刺加、苏禄的国王和王后回访中国。苏禄王率 300 多人访问中国，归国途中病逝于山东德州，并厚葬于此。这说明，郑和下西洋（ ）

- A. 传播了友谊 B. 到达了欧洲 C. 增加了财政收入 D. 影响了国运

24. 据下表内容可知，以下科技名著的相同之处是（ ）

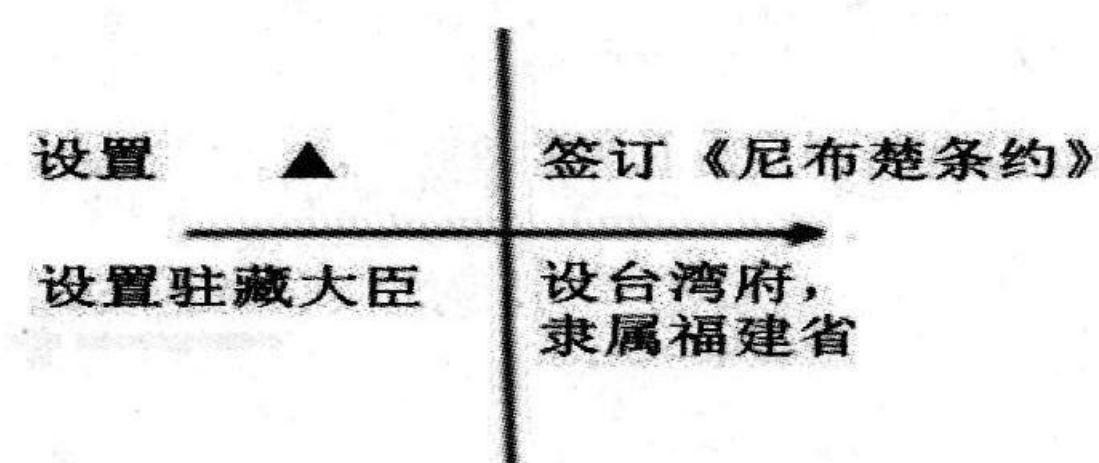
科技名著	流传情况
《本草纲目》	17 世纪初传入日本、朝鲜，后被翻译成拉丁文、英文等多种文字
《天工开物》	被译成日文、法文、英文等多种文字，被欧洲学者誉为“中国 17 世纪的工艺百科全书”
《农政全书》	先后传入日本、朝鲜及欧洲多国，被英国学者李约瑟誉为“一部农业方面的卓越巨著”

- A. 突出农业，关注民生 B. 借鉴西方，博采众长
- C. 内容全面，讲求实用 D. 影响深远，造福人类

25. 明朝末年曾流行这样的歌谣：“宰牛羊，备酒浆，开了城门迎闯王，闯王来时不纳粮。”歌谣中的“闯王”（ ）

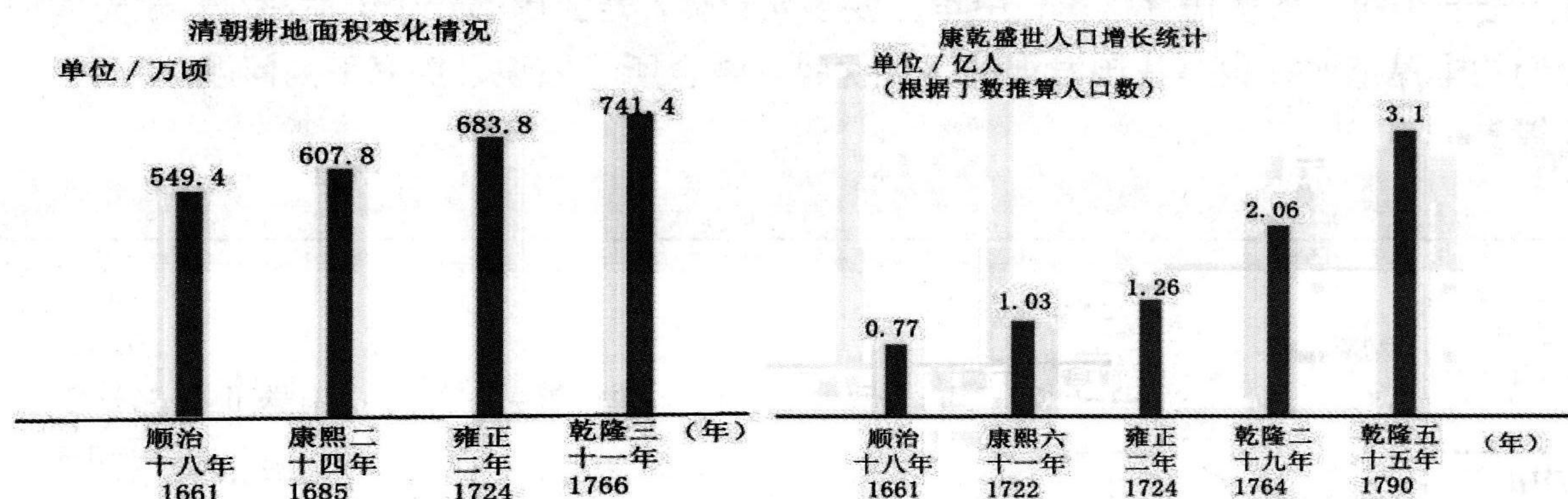
- A. 结束了元朝统治 B. 提出“均田免赋”的口号
- C. 建立起明朝政权 D. 联合吴三桂灭掉了清朝

26. 绘制示意图是学习历史的重要方法之一。下图是李明同学绘制的清朝加强边疆治理的示意图（部分）。图中▲处应填入的是（ ）



- A. 西域都护 B. 安西都护府 C. 伊犁将军 D. 北庭都护府

27. 下面是有关清朝耕地面积变化情况和康乾盛世人口增长统计的图表。该图反映了这一时期 ()



- A. 经济作物种植进一步发展 B. 社会贫富差距不断扩大
C. 人口增长, 人地矛盾突出 D. 清朝土地兼并极其严重

28. 下面文本框是同学们在探究学习时总结出的中国古代某一时期的经济现象。据此判断, 他们探究的主题应该是 ()

- ①地域性商人群体商帮形成 ②大量白银流入中国
③景德镇市全国的制瓷中心 ④资本主义萌芽出现

- A. 唐朝的农业 B. 宋朝的商业 C. 元朝的外贸 D. 明朝的经济

29. 金华古城明月楼上有描述金华城的唐诗, “明月双溪水, 清风八咏楼”, 几百年来, 成为金华古城的广告语, 可是明月、清风这些字眼, 让统治者担心江南民众复明, 最终明月楼走上了被拆迁的命运。这表明清政府在思想领域实行 ()

- A. “焚书坑儒” B. “文字狱”
C. “思想开放” D. “罢黜百家, 尊崇儒术”

30. 有学者评价清朝出现的艺术: “它是“地方戏时代”出现的最重要的剧种, 是雅文化在中国文化整体中渐趋衰落的时代变革的产物。它更多地是特定地域文化的产物, 更接近于底层和民间的趣味。”该艺术最有可能是 ()

- A. 电视剧 B. 小说 C. 京剧 D. 电影

二、非选择题: 本大题共 3 小题, 第 31 小题 16 分, 32 小题 12 分, 第 33 小题 12 分, 共 40 分。

31. (16 分) 中华五千年文明孕育了众多的历史文化名城。阅读材料, 回答问题。

【盛世古都·西安】

材料一 从中国都城史来看, 西安作为都城具有特殊的属性, 曾为中国历史上的盛世之都,

规模最大的都城。从世界都城史来看, 张骞通西域后, 汉代长安成为当时中外交流的国际性都城。唐都长安也是对外交流的中心, 一方面, 对中亚、西亚乃至欧洲有着重要影响; 另一方面, 唐长安的政治与文化影响到东亚地区的发展。

——摘编自《地位与特性: 大古都视阈中的古都西安》

【人文荟萃·北京】

材料二 北京历史悠久, 文化灿烂, 是首批国家历史文化名城、中国四大古都之一和世界上拥有世界文化遗产数最多的城市, 3060 年的建城史孕育了故宫、八达岭长城、……等众多名胜古迹。

——摘编自百度百科

【民族特色·拉萨】

材料三

<p>图一 唐蕃会盟碑位于西藏拉萨布大昭寺门前, 成两族人民团结友好的历史见证。</p>	<p>图二 清政府颁赐的金瓶珍藏于西藏拉萨大昭寺, 供寻找活佛和呼图克图灵童时用。</p>

【守护延续·文化】

材料四 “历史文化是城市的灵魂, 要像爱惜自己的生命一样保护好城市历史文化遗产, 保护城市文化遗产具有重要的价值。”

——2014 年, 习近平在北京考察时的讲话





(1) 根据材料一从中国和世界不同角度概括西安作为都城的特别之处。写出材料中“东亚地区”受唐都文化影响较大的国家。(6 分)





(2) 从材料二中划线部分任选一个名胜古迹, 简述其历史文化价值。(4 分)

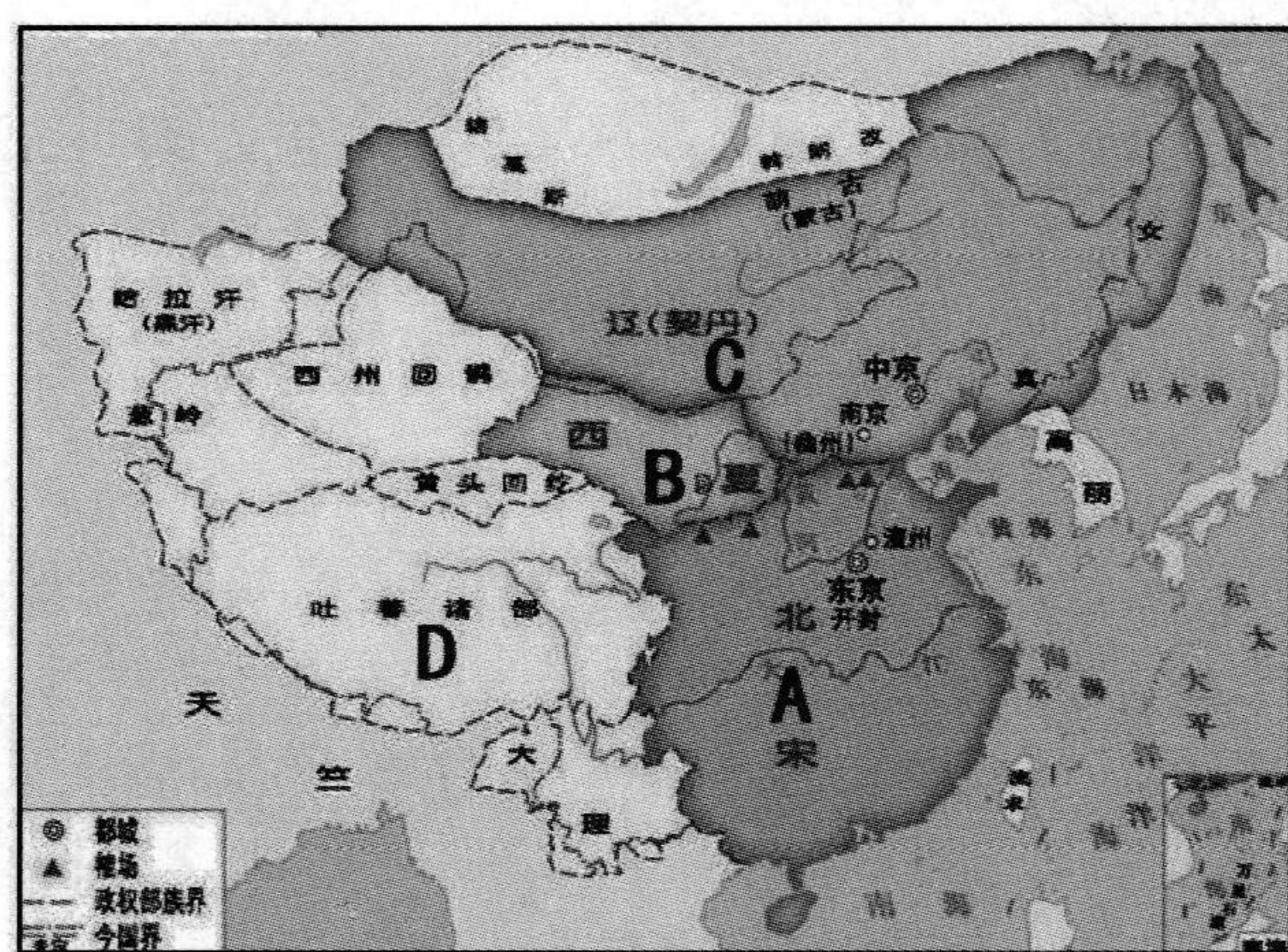
(3) 结合所学, 写出根据材料三反映出哪些民族政策(制度)? (4 分)

(4) 请你为守护城市文化遗产, 延续民族文化根脉, 提出合理化建议。(2 分)

32、(12分)文物是我们认识历史的重要史料,蕴含着丰富的历史信息。有小组围绕“文物中的大宋历史”为主题,展开项目化学习。活动过程中收集到了以下宋朝时期的材料。

主题一 社会变化			
			
材料一	材料二	材料三	材料四

主题二 民族关系			
			
材料五 契丹货币	材料六 西夏文契约	材料七 辽代白釉绿彩鸡冠壶	材料八 辽代褐釉皮囊式瓷鸡冠壶



材料九

(1) 主题一中能够反映宋朝时期科技成就(指南针)的是 () (2分)
A. 材料一 B. 材料二 C. 材料三 D. 材料四

(2) 结合所学,分析材料五和材料六文物最可能分别出土于材料九中哪一地区(写字母)? (4分)

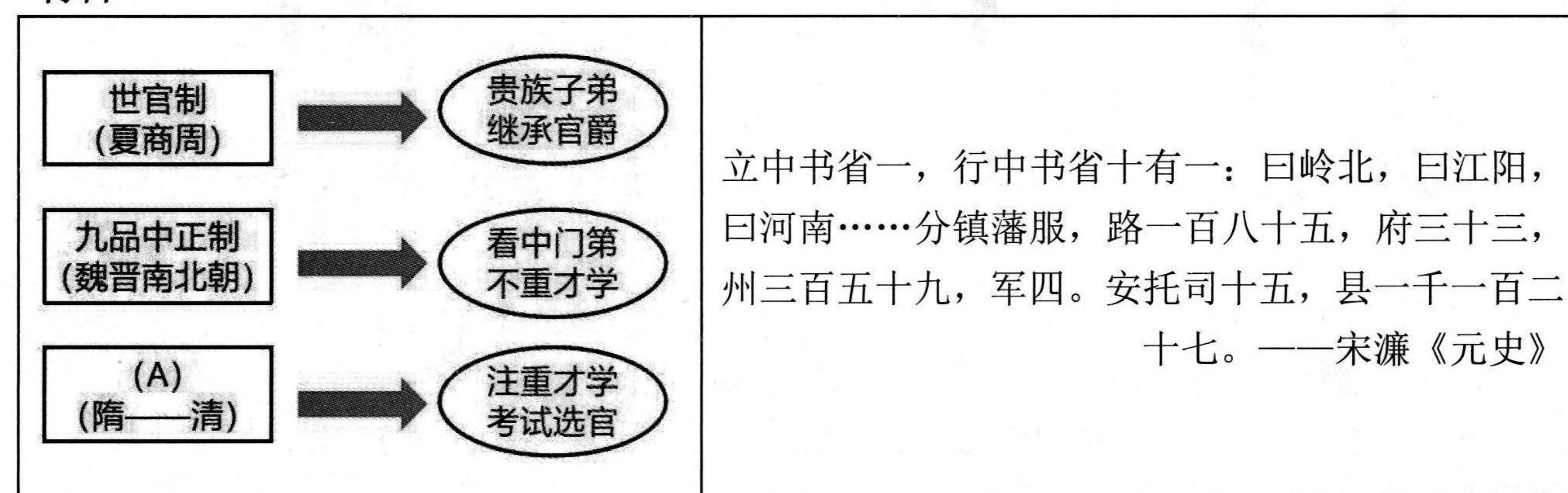
(3) 有同学分析材料七和材料八后发现:早期的鸡冠壶提梁上有一孔,便于系带悬挂于马鞍上携带;后期的鸡冠壶,穿孔式逐渐转变为提梁式,方便农耕时使用。这反映了北宋时期的什么现象? (2分)

(4) 宋朝对外称自己为“大宋”,结合史实说明,你认为宋朝“大”体现在哪些方面? [可从政治、经济、民族关系、文化、科技中任选两点说明] (4分)

33、我国是一个统一的多民族国家。中华民族多元一体,是我国的一个鲜明特征,是先人们留给我们的丰厚遗产,也是我国发展的巨大优势。结合所学知识,探究下列问题。

【政治篇】

材料一



【经济篇】

材料二



【对外交往篇】

材料三 “禁止外商在广州过冬,必须冬住者只准在澳门居住;外商不得在广州自由出入、不得乘轿、不得向官府直接投递文书、不得随意外出游览、外国妇女不得进入广州城……至此,清朝对外贸易的限制达到了顶峰。

——摘编自北师大版七下《教师教学用书》

(1) 写出材料一图中 A 处制度的名称,根据材料概括元朝统治者实行什么制度管理辽阔的疆域? (4分)

(2) 根据材料二结合所学,写出唐朝发明并推广的两种生产工具。(4分)

(3) 根据材料三,分析清朝对外政策的新变化,并结合所学简述该变化的危害。(4分)