

# 2023-2024 学年度第二学期期末教学质量抽测

## 八年级历史试卷

本试卷共 8 页，33 小题，满分 100 分。考试用时 80 分钟。

### 一、选择题（本大题共 30 小题，每题只有一个正确选项，每小题 2 分，共 60 分）

- 毛泽东曾写信给宋庆龄：“至祈先生命驾北来，参加此一人民历史伟大事业，并对如何建设新中国加以指导……”。此信邀请宋庆龄参加的会议应该是（ ）
  - 中国人民政治协商会议第一届全体会议
  - 中共十四届三中全会
  - 第一届全国人民代表大会第一次会议
  - 中共十二届三中全会
- “喜马拉雅山再高也有顶，雅鲁藏布江再长也有源，藏族人民再苦也有边，共产党来了苦变甜”（歌词），西藏人民“苦变甜”的历史开始于（ ）
  - 开国大典的举行
  - 西藏获得了和平解放
  - 祖国获得了统一
  - 新解放区的土地改革
- 下图是画家张碧梧 1952 年创作的年画《养小鸡捐飞机》，该图片出现的背景是（ ）



- 沈阳开始飞机制造
  - 工业化建设起步
  - 建立社会主义制度
  - 志愿军入朝作战
- “发展生产的人为障碍消除，广大翻身农民的生产积极性提高，因此，1952 年湖南的丰产运动成绩显著。”该材料可以佐证（ ）
    - 土地改革的成效性
    - 三大改造的必要性
    - 工业建设的迫切性
    - 社会主义的优越性
  - 下表所示是 1952—1957 年新中国社会总产值的产业部门的构成比重，对表格中数据变化原因解释正确的是（ ）

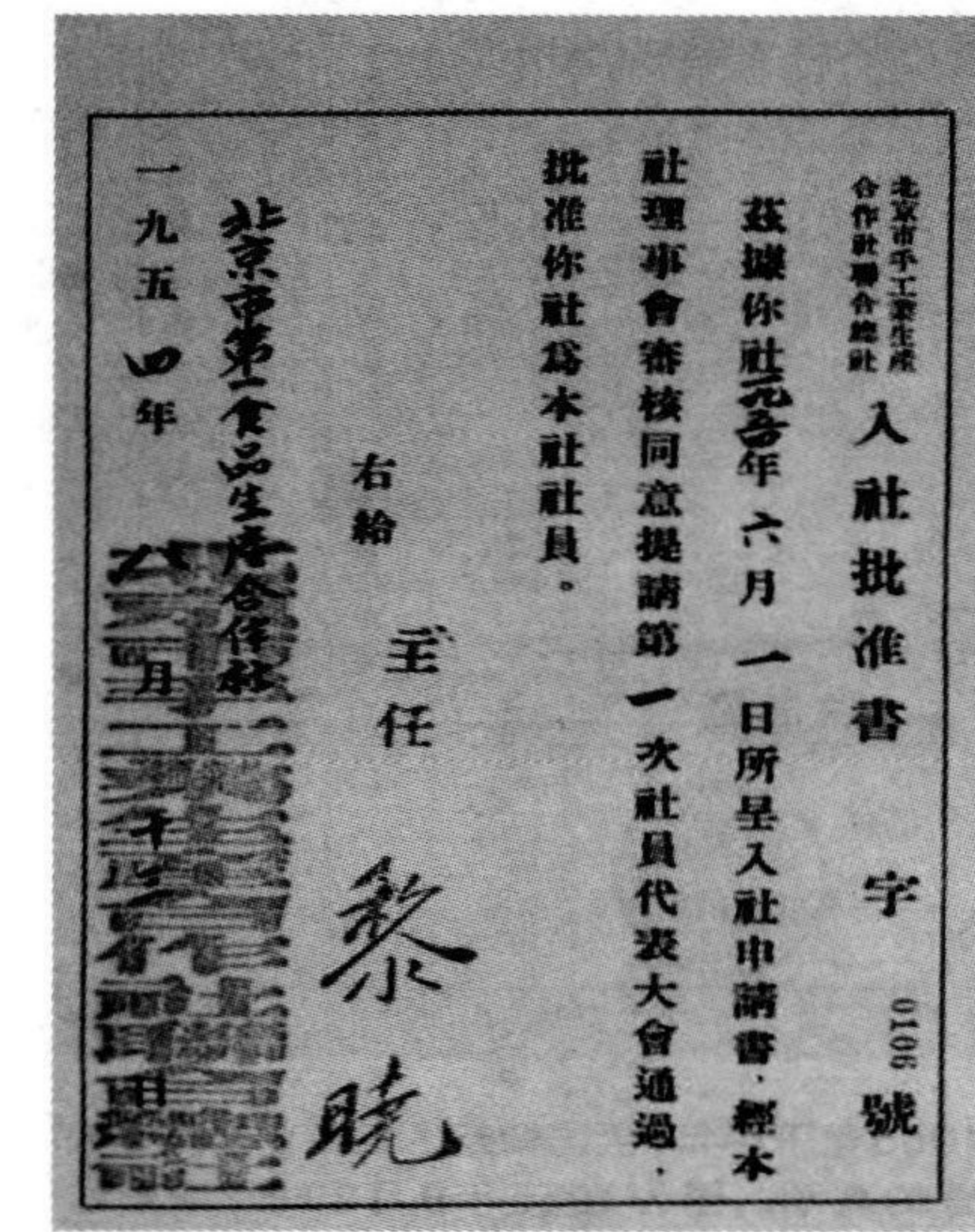
年份	社会总产值	农业	工业	建筑业	运输业	商业
1952	100	45.4	34.4	5.6	3.5	11.1
1957	100	33.5	43.8	7.4	3.7	11.6

- 土地改革的推动
  - 三大改造的完成
  - 一五计划的施行
  - “大跃进”的影响
- 1954 年在完成全国基层选举的基础上，分别选举产生 1226 名出席全国人民代表大会的代表（台湾省代表暂缺）其中，中共党员 668 人，占 54.48%，党外人士 558 人，占 45.52%。

这反映了全国人民代表大会（ ）

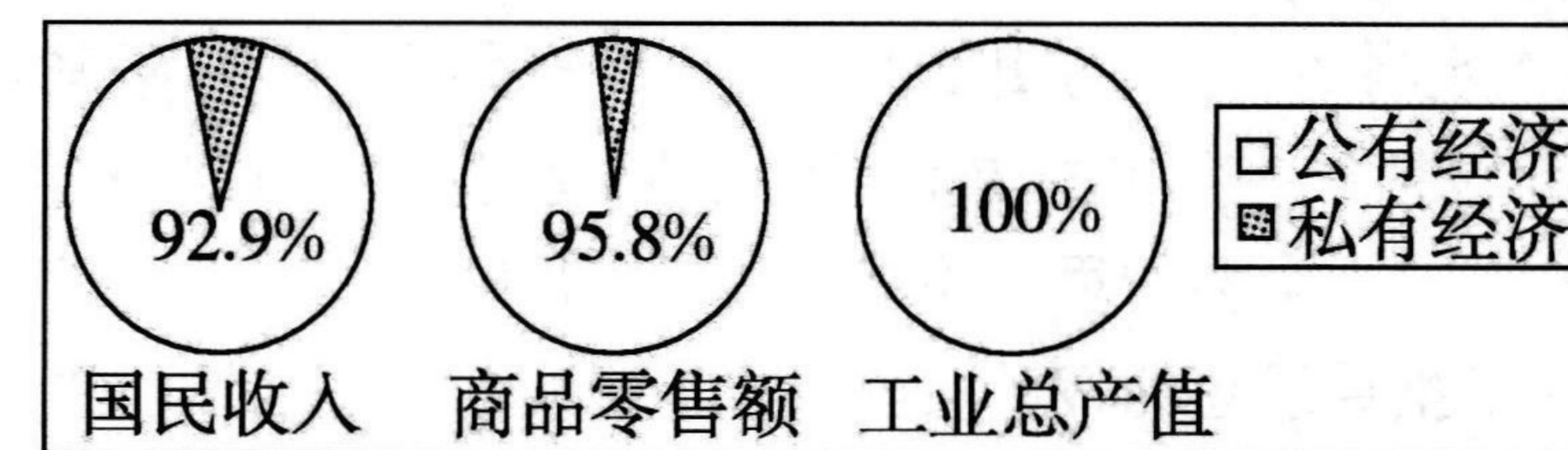
- 提高决策科学性
- 具有广泛代表性
- 权力具有至上性
- 强调制度稳定性

- 下图是中国国家博物馆珍藏的“1954 年，北京市手工业生产合作社联合总社发给北京第一食品生产合作社的入社批准书”。这件文物可以作为研究三大改造的（ ）



- 口述史料
- 二手史料
- 音像史料
- 实物史料

- 下图所示为某时期我国公私经济成分的比例情况。图片反映的信息可以得出，新中国（ ）



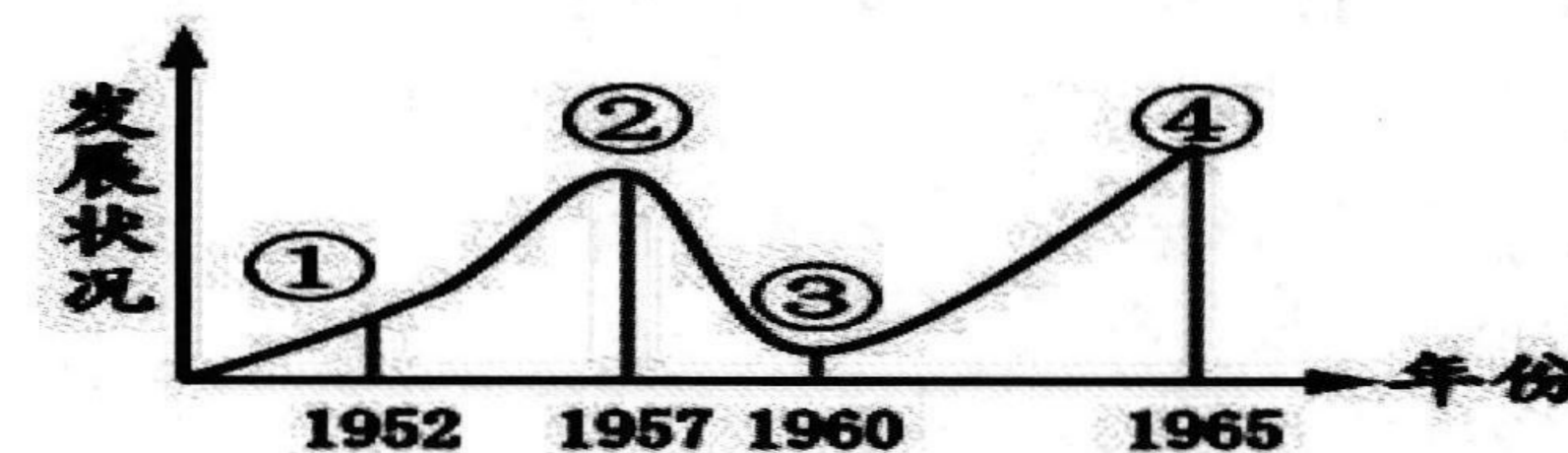
- 成为真正独立自主的国家
- 国际地位逐步提高
- 建立起社会主义基本制度
- 一五计划超额完成

- 民谣作为一种流传于人民之中并为人民群众所喜闻乐见的艺术形式，其自身带有鲜明的时代特点。如图这首民谣所反映的时代背景是（ ）

人人进入新乐园。吃喝穿用不要钱；  
鸡鸭鱼肉味道鲜。顿顿可吃四大盘；  
天天可以吃水果。各样衣服穿不完；  
人人都说天堂好，天堂不如新乐园。

- 土地改革的开展
- 三大改造的进行
- 人民公社的兴起
- 改革开放的深入

- 下面是新中国成立后国民经济发展的状况图，指出从③到④产生变化的主要原因是（ ）



- A. 开始落实《中华人民共和国土地改革法》
- B. 提出多快好省地建设社会主义的总路线
- C. 全面掀起“大跃进”“人民公社化运动”
- D. 实施“调整、巩固、充实、提高”方针

11. 20 世纪六七十年代，下图中三位英雄人物的纪念馆相继建成，他们共同体现出来的时代精神是（ ）

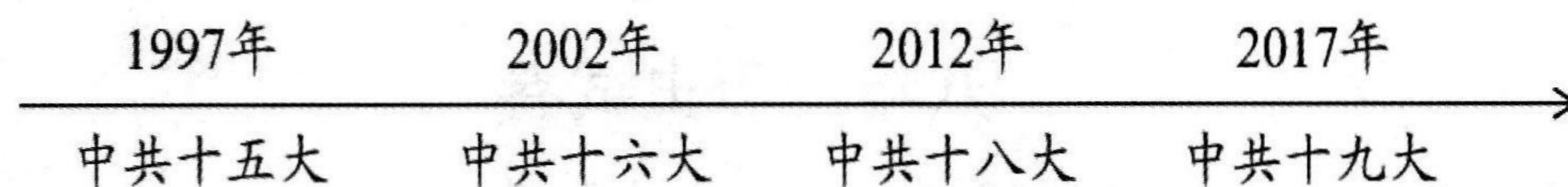


- A. 同仇敌忾、国际主义
  - B. 艰苦创业、无私奉献
  - C. 改革创新、与时俱进
  - D. 崇尚法治、健全民主
12. 20 世纪 80 年代，美国《新闻周刊》记者报道，福建石狮的小商品贸易和广东南海民间的小五金、小化工、小塑料、小纺织、小冶炼、小加工，“像野草一般满世界疯长”。该报道说明（ ）
- A. 国有企业改革没有效果
  - B. 改革开放释放经济活力
  - C. 中国经济水平世界最强
  - D. 中国品牌享誉世界各地
13. 邓小平曾指出“建国 30 年来历史上的大事，哪些是正确的，哪些是错误的，要进行实事求是地分析，包括一些负责同志的功过是非，要作出公正的评价。”这一观点（ ）
- A. 体现了十一届三中全会的思想路线
  - B. 开启社会主义现代化建设的新时期
  - C. 表明党完成了指导思想的拨乱反正
  - D. 系统阐述了社会主义初级阶段理论
14. 学习历史需正确认识史实与结论之间的关系。下列史实与结论关系对应正确的是（ ）

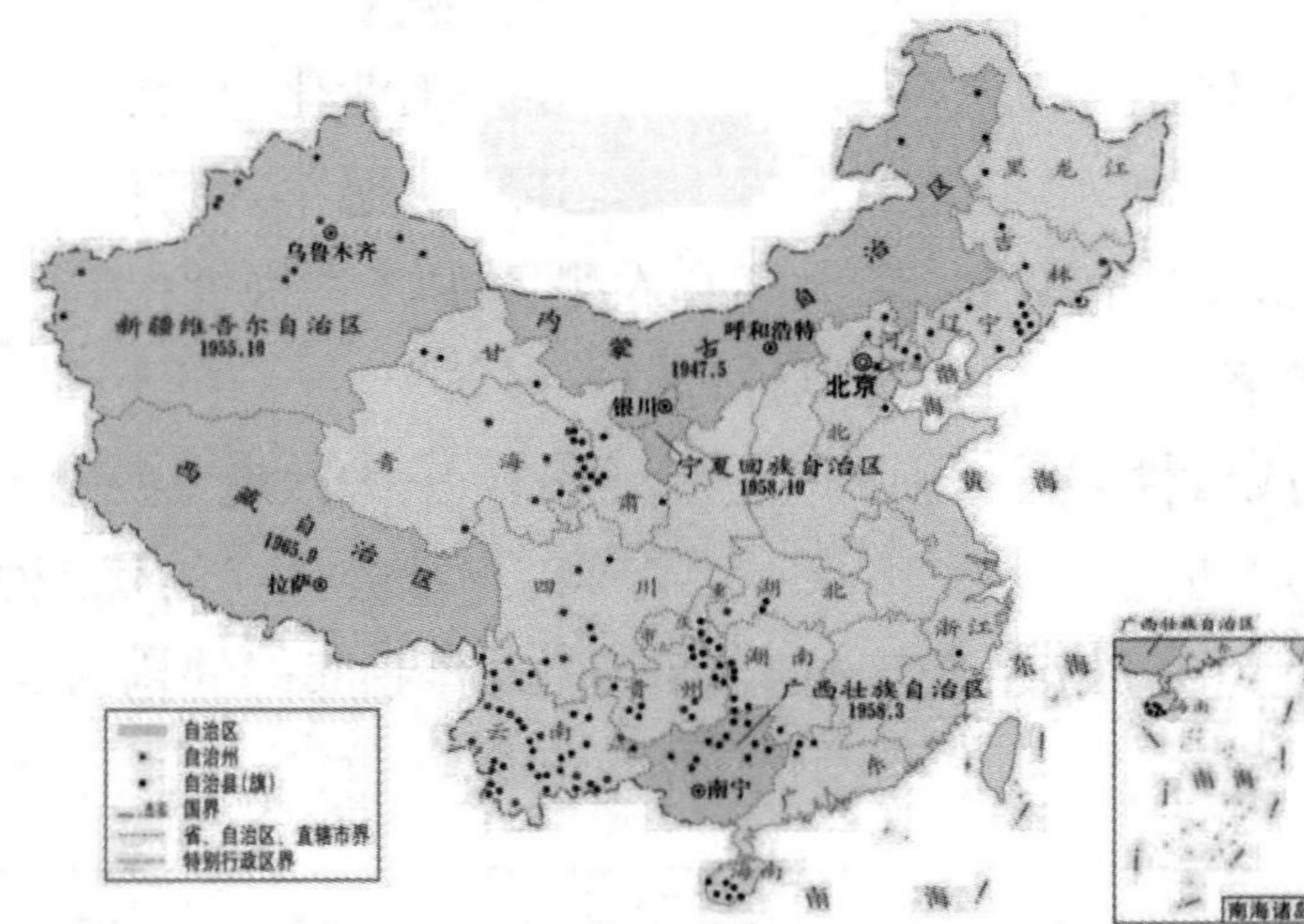
选项	史实	结论
A	中华人民共和国成立	实现祖国大陆统一
B	抗美援朝获得胜利	新民主主义革命胜利
C	《关于建国以来党的若干历史问题的决议》通过	中国共产党在指导思想上的拨乱反正胜利完成
D	上海浦东新区设置	经济特区开始设立

- A. A
  - B. B
  - C. C
  - D. D
15. 1979 年春节，安徽凤阳小岗村一农户自拟了一副春联：“家家户户忙生产，高高兴兴庆丰收”。下列横批中最合适的是（ ）
- A. 思想解放好
  - B. 翻身作主好
  - C. 包干到户好
  - D. 公私合营好
16. 英国《金融时报》载：“自 1978 年以来，中国企业有三次创业的高潮点，分别是 1984 年、1992 年和 2001 年。”其中催生 2001 年创业高潮点的因素是中国（ ）
- A. 鼓励外商来华投资
  - B. 加入世界贸易组织
  - C. 确立市场经济体制
  - D. 扩大企业的自主权

17. 下图是某学习小组进行历史学习设计的年代尺，请判断他们学习的主题是（ ）




- A. 毛泽东思想的确立、继承和发展
  - B. 中国共产党召开的历次代表大会
  - C. 中国特色社会主义理论体系的完善和发展
  - D. 习近平新时代中国特色社会主义思想的确立
18. 历史史实是指客观发生的历史事实，历史观点是对历史史实的认识。下列表述属于历史观点的是（ ）
- A. 1992 年，邓小平南下视察并发表讲话
  - B. 中央决定兴办深圳等 4 个经济特区
  - C. 1970 年，我国成功发射东方红一号
  - D. 邓小平是我国改革开放的总设计师，他为国家和人民做出了巨大的贡献
19. 党的十八大以来，国家建设硕果累累，“奋斗者”号万米深潜、“复兴号”驰骋神州、C919 翱翔蓝天、“太空之家”遨游苍穹……这一系列重大成果，主要体现了新发展理念中的（ ）
- A. 创新
  - B. 协调
  - C. 绿色
  - D. 共享
20. 为了推行某一制度，我国先后设立了五个省级行政区（下图所示）。由此可知，该制度是（ ）



民族区域自治示意图

- A. 社会主义基本制度
  - B. 民族区域自治制度
  - C. 家庭联产承包责任制
  - D. 人民代表大会制度
21. 当时有资料显示，澳门回归十多年来，GDP 以年均近 15% 的增幅快速增长，人均 GDP 已达 3.9 万美元，成为全球最活跃的微型经济体。这表明，“一国两制”的成功实践（ ）
- A. 增进了中国人民的了解和感情
  - B. 增强了中华民族的文化认同感
  - C. 促进了特区经济的繁荣和发展
  - D. 保持了特区生活方式长期不变

22. 如果为下列图片拟一个的共同主题，最准确的应是（ ）



- A. 民族实现独立 B. 国家完成统一 C. 人民生活改善 D. 制度建设创新
23. “两岸之道，唯和与合，势之所趋，事之必至。期我同胞，终能秉持九二共识与汪辜会谈之谛。”汪道涵唁辜振甫逝世电文中提及的“九二共识”是指（ ）
- A. 和平统一祖国方针 B. 海峡两岸均坚持一个中国的原则  
C. 加强两岸合作交流 D. 反对“台独”分子和国际反华势力
24. 俄乌冲突的爆发与持续，使国防建设再次成为人们探讨的重要话题。下列国防建设成就中属于改革开放以来的是（ ）
- A. 建立华东军区海军 B. 第一颗氢弹爆炸成功  
C. 组建第二炮兵部队 D. “辽宁舰”交接入列
25. 毛泽东在会见法国议员代表团时指出：“你们不是共产党，我也不是你们的党；我们反对资本主义，你们也许反对共产主义。但是，还是可以合作的。”下列与毛泽东这一理念一致的是（ ）
- A. 民族区域自治制度 B. 美国的外交孤立政策  
C. “求同存异”方针 D. 人民代表大会制度
26. 20世纪六七十年代，中日间的围棋交流，为缓解两国关系开启了大门；“篮球外交”推动了中菲关系的改善；中美间的“乒乓外交”轰动了世界。与材料主题相一致的是（ ）
- A. “体育为国家经济服务” B. “锻炼身体，保家卫国”  
C. “体育是外交先行官” D. “新北京，新奥运”
27. “青蒿一握，水二升，浸渍了千多年，直到你出现。为了一个使命，执着于千百次实验。萃取出古老文化的精华，深深植入当代世界，帮人类渡过一劫。呦呦鹿鸣，食野之蒿。今有嘉宾，德音孔昭”。以上感动中国颁奖词最适合的人选是（ ）
- A. 屠呦呦 B. 邓稼先 C. 焦裕禄 D. 王进喜
28. 2024年4月25日，神舟十八号载人飞船发射取得圆满成功，这是我国在航天领域取得的又一重大成就。回望1970年，我国在该领域取得的重大成就是（ ）
- A. 青藏铁路的开通运营 B. 港珠澳大桥正式开通  
C. 东方红一号发射成功 D. 神舟十二号发射成功
29. 20世纪80年代初期，流行音乐在中国异军突起，风靡一时。歌曲生产和消费各个环节的资源，如写作、出版、演出等，都大量集中在流行音乐领域。这一现象（ ）
- A. 反映了思想解放的成效 B. 得益于市场经济体制的建立  
C. 导致了文艺方针的调整 D. 推动了科教兴国战略的制定
30. 下表是我国改革开放前后人们日常生活变化统计表。这反映了我国（ ）

时期	改革开放前	改革开放后
饮食	单一	营养均衡、粗细搭配
服饰	黑灰蓝为主	丰富多彩，展示个性
住房	拥挤，室内结构简单	面积扩大，室内装修和居住环境大幅度改善

- A. 人民思想观念的解放 B. 人民生活水平的提高  
C. 公共交通事业的发展 D. 电信网络的不断普及

二、非选择题（本大题共3小题，31小题14分，32小题14分，33小题12分，共40分）

31. （14分）口号是对当时社会政治、经济、文化的一种反映。阅读材料，完成下列要求。

材料 中国共产党建国以来的著名口号

1949—1956年	(1) 中国人民站起来了 (2) “抗美援朝，保家卫国” (3) “总路线是照耀我们各项工作的灯塔”
1956—1966年	(1) “鼓足干劲，力争上游，多快好省地建设社会主义” (2) “大干了再大干，超产了再超产，奉献了再奉献”
1978年以来	(1) “解放思想，实事求是，团结一致向前看” (2) “改革开放” (3) “发展才是硬道理” (4) “有中国特色的社会主义” (5) “不忘初心，牢记使命”

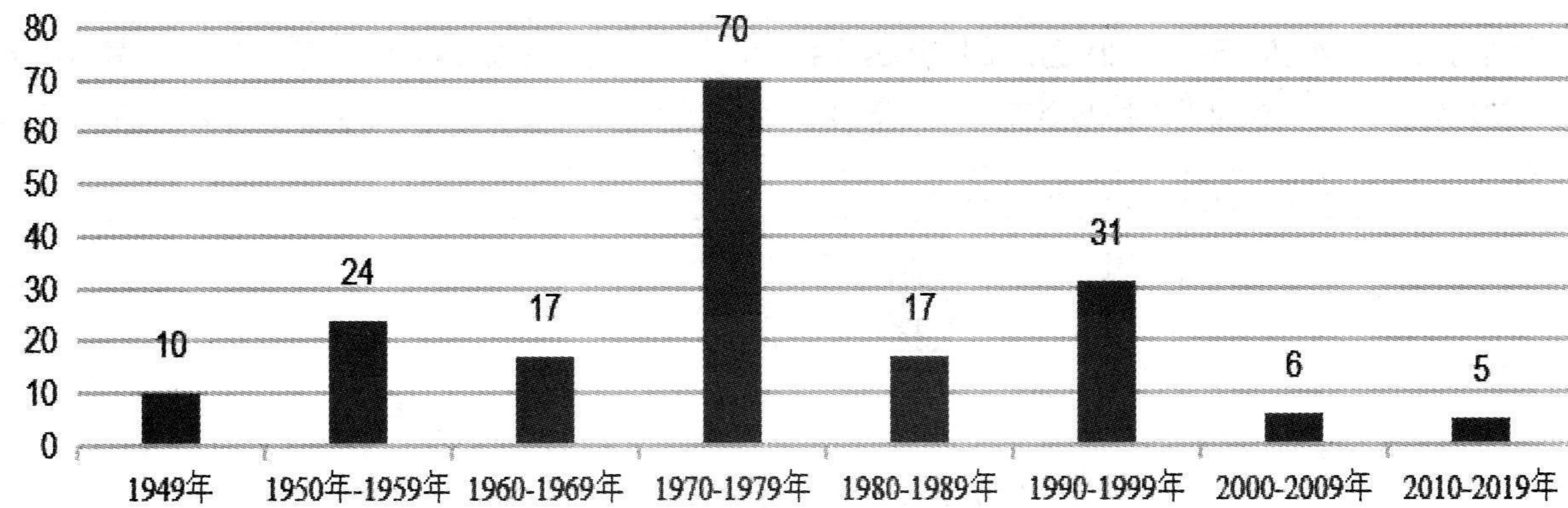
- (1) 材料中“中国人民站起来了”这一口号对应哪一历史事件？结合所学，分析该事件还有哪些影响？（6分）
- (2) 根据材料，如何评价1956-1966年党的著名口号？并结合所学，写出1958年我党在社会主义建设道路探索中出现的一例失误。（4分）
- (3) 根据材料结合所学，写出实行“改革开放”是党的哪次会议的决策？并分析这次会议的历史意义。（4分）

32. (14分) 外交活动, 既要靠外交智慧, 更要靠国家实力。阅读下列材料, 回答问题。

材料一 朝鲜战争结束后, 为争取国际局势的缓和, 为国内即将开展的大规模经济建设争取和平环境, 周恩来提出著名的和平共处五项原则……它是从革命运动外交向国家外交过渡的一次关键性转变, 标志着新中国外交的形成。

——章百家《我们怎样走向世界》和牛军《新中国外交的形成及主要特征》

材料二 1949—2019年中华人民共和国新建交国家数量柱状图



材料三 全面推进中国特色大国外交, 形成全方位、多层次、立体化的外交布局, 为我国发展营造了良好的外部条件。实施共建“一带一路”倡议, 发起创办亚洲基础设施投资银行、设立丝路基金……我国国际影响力、感召力、塑造力进一步提高, 为世界和平与发展做出新的重大贡献。

——习近平《决胜全面建成小康社会, 夺取新时代中国特色社会主义伟大胜利》

(1) 材料一中, 周恩来提出的处理国与国关系的基本准则是什么? 根据材料概括这一准则体现了我国外交怎样的变化? (4分)


(2) 根据材料二, 指出哪一时间段中国新建交的国家数量最多? 结合所学, 分析其原因。(6分)

(3) 根据材料三, 指出“中国特色大国外交”形成了怎样的布局? 有何作用? (4分)

33. (12分) 改革开放是当代中国命运的关键抉择。阅读材料, 回答问题。

材料一

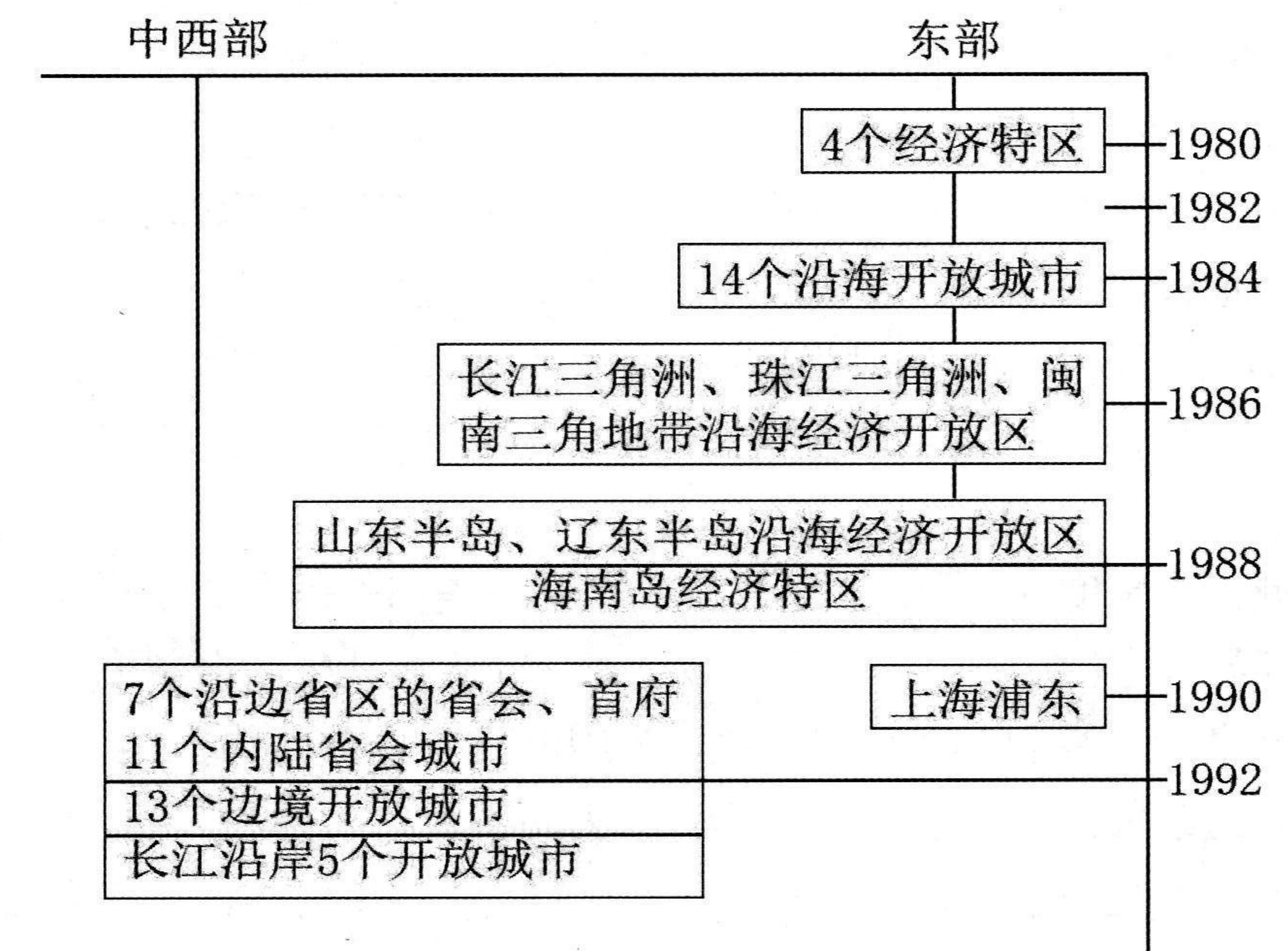
1978—2017年我国粮食总产量数据(部分)



注: 从2015年起我国粮食产量连续多年稳定在6亿吨以上

——摘编自《中国统计年鉴》等

材料二 中国对外开放示意图



(1) 根据材料一, 概括我国粮食产量的趋势, 并结合所学, 指出推动这一趋势的农业政策因素。(4分)

(2) 根据材料二, 围绕“对外开放”这一主题提炼一个观点, 并结合所学知识加以论述。(要求: 观点明确, 史论结合, 逻辑清晰, 言之成理。)(8分)